



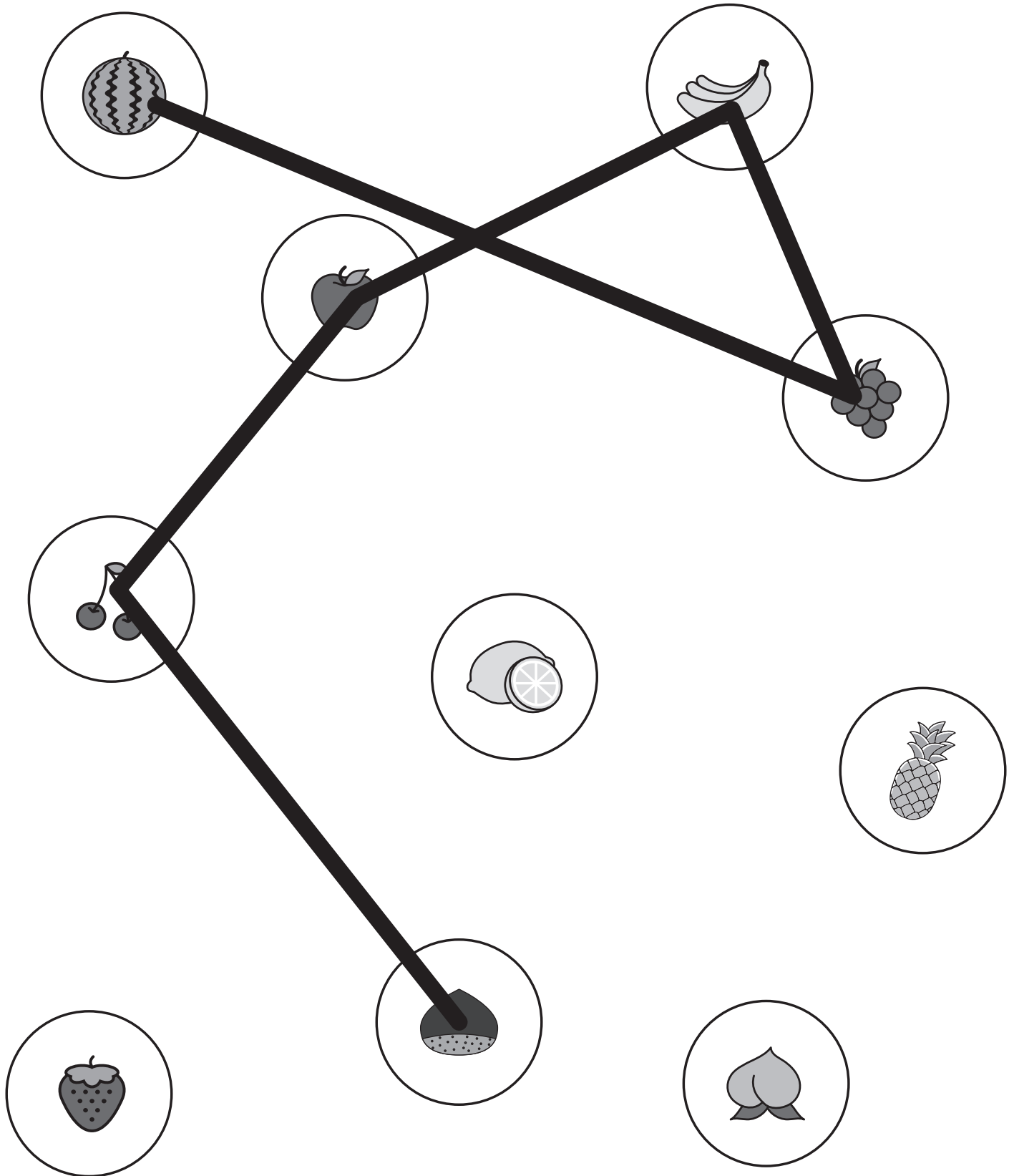
おうちで、やろう。 年中児版

Study at home. 小学校受験の家庭学習教材

指示理解7

お話の順番どおりに果物を線で結びます。

【スイカ→ブドウ→バナナ→リンゴ→サクランボ→クリ】



※1. このプリントは、しながわ・目黒こどもスクールのウェブサイトからダウンロードができます。無断複写・引用はご遠慮ください。

※2. このプリントを活用したオンライン授業のスケジュールは、しながわ・目黒こどもスクールのウェブサイトでご確認ください。



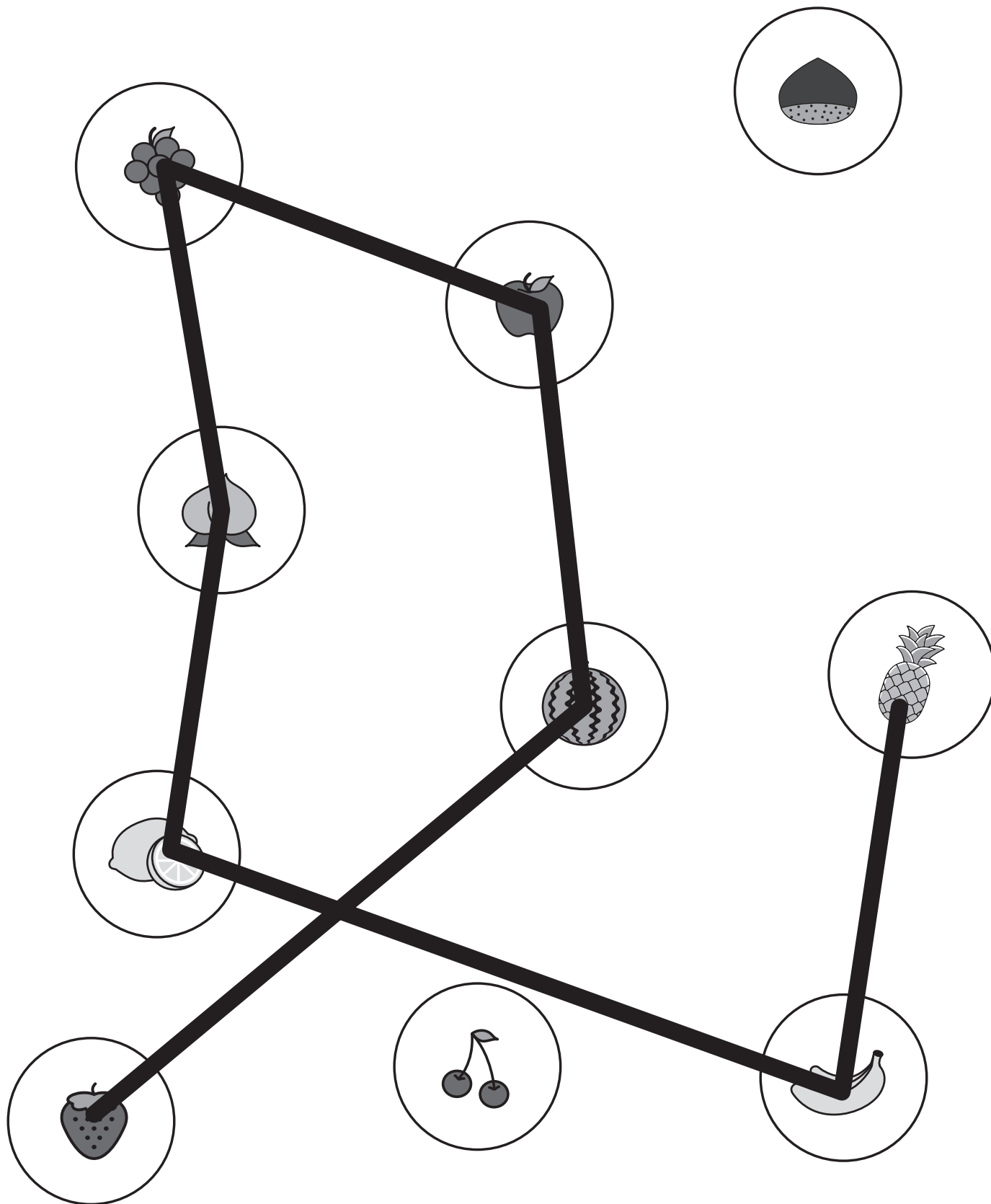
おうちで、やろう。 年中児版

Study at home. 小学校受験の家庭学習教材

指示理解 8

お話の順番どおりに果物を線で結びます。

【パイナップル→バナナ→レモン→モモ→ブドウ→リンゴ→スイカ→イチゴ】



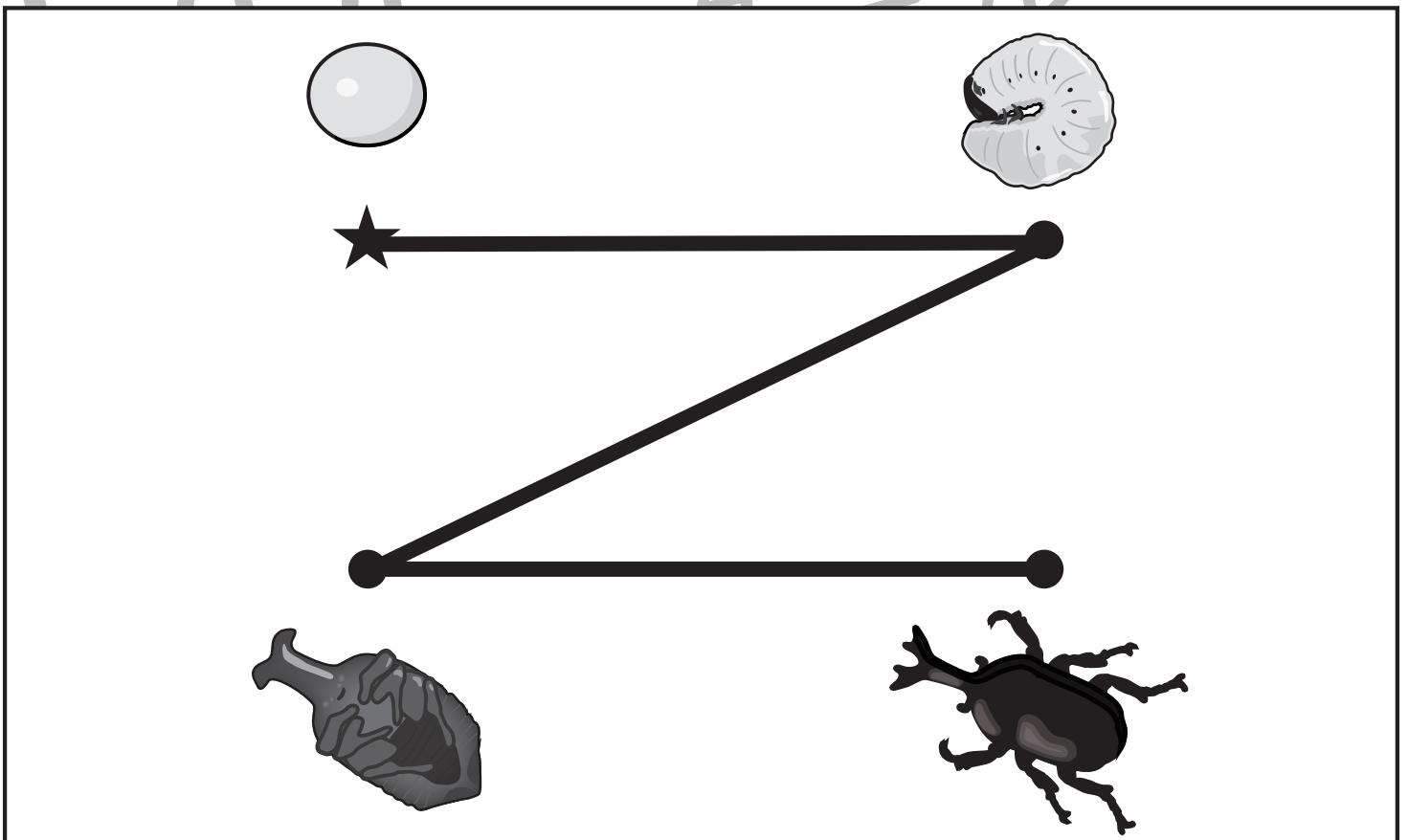
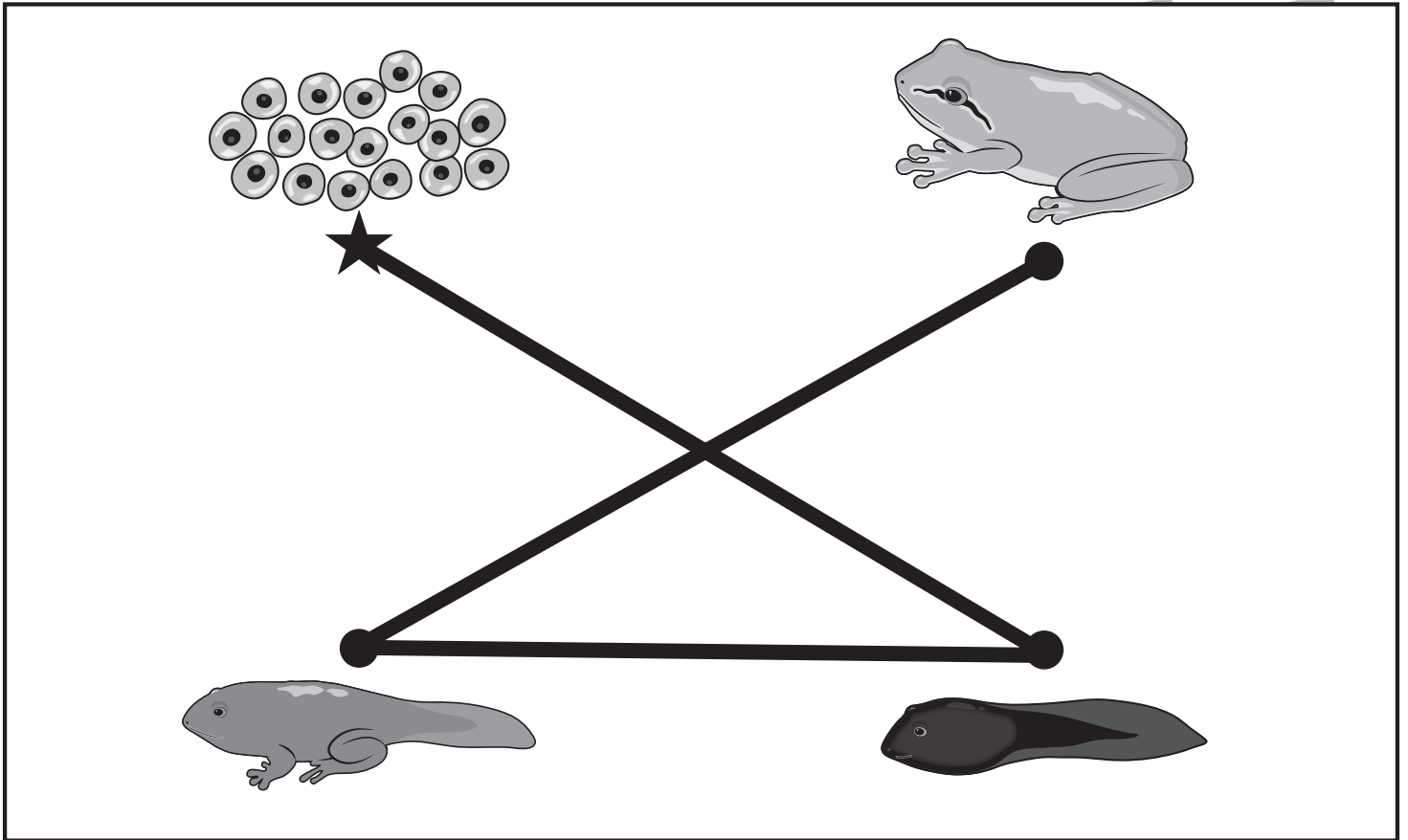
※1. このプリントは、しながわ・目黒こどもスクールのウェブサイトからダウンロードできます。無断複写・引用はご遠慮ください。

※2. このプリントを活用したオンライン授業のスケジュールは、しながわ・目黒こどもスクールのウェブサイトでご確認ください。





ある生き物が育っていく順番を考えます。
★の卵から大きくなる順番に●を線でつなぎます。



※1. このプリントは、しながわ・目黒こどもスクールのウェブサイトからダウンロードできます。無断複写・引用はご遠慮ください。
※2. このプリントを活用したオンライン授業のスケジュールは、しながわ・目黒こどもスクールのウェブサイトでご確認ください。



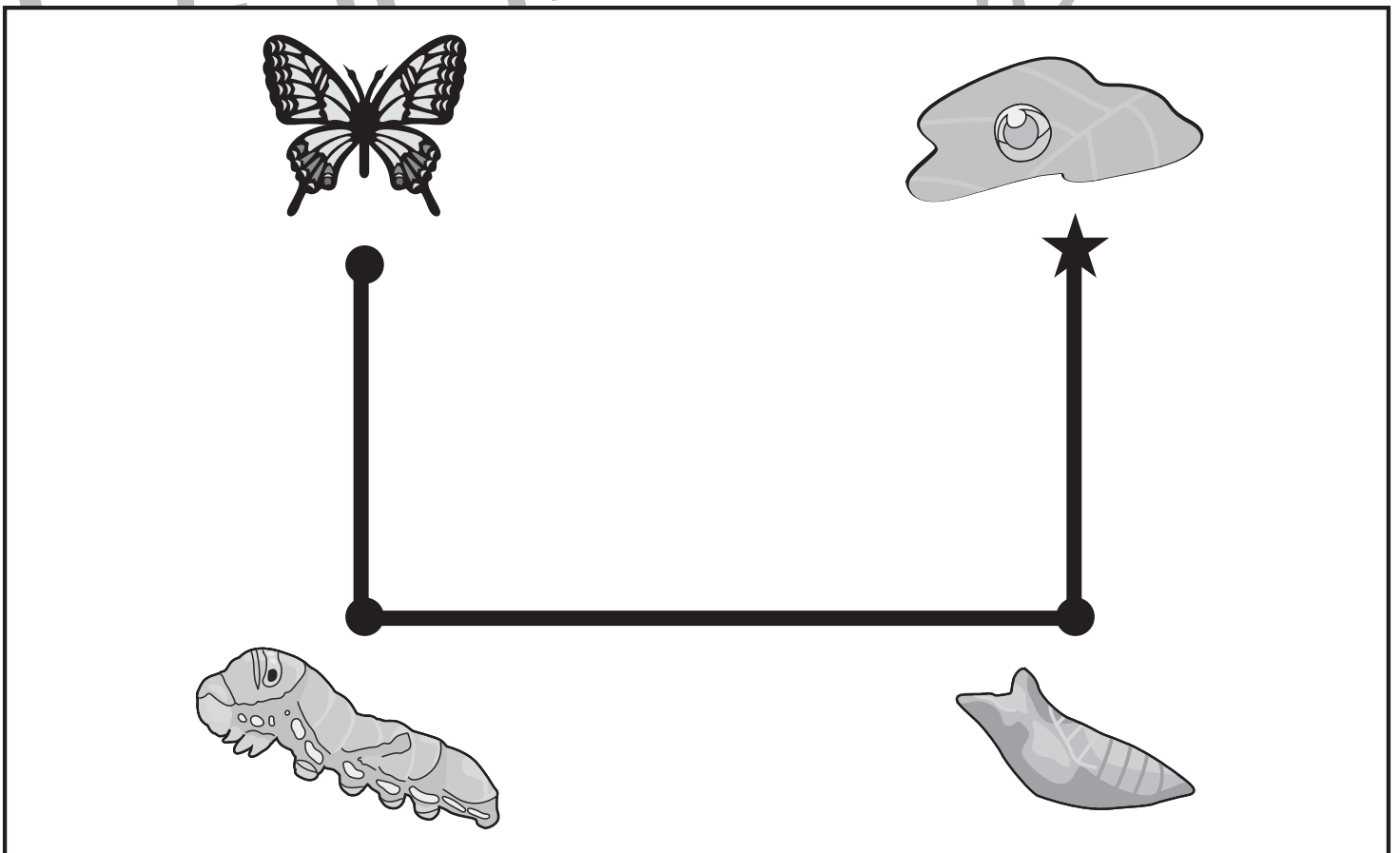
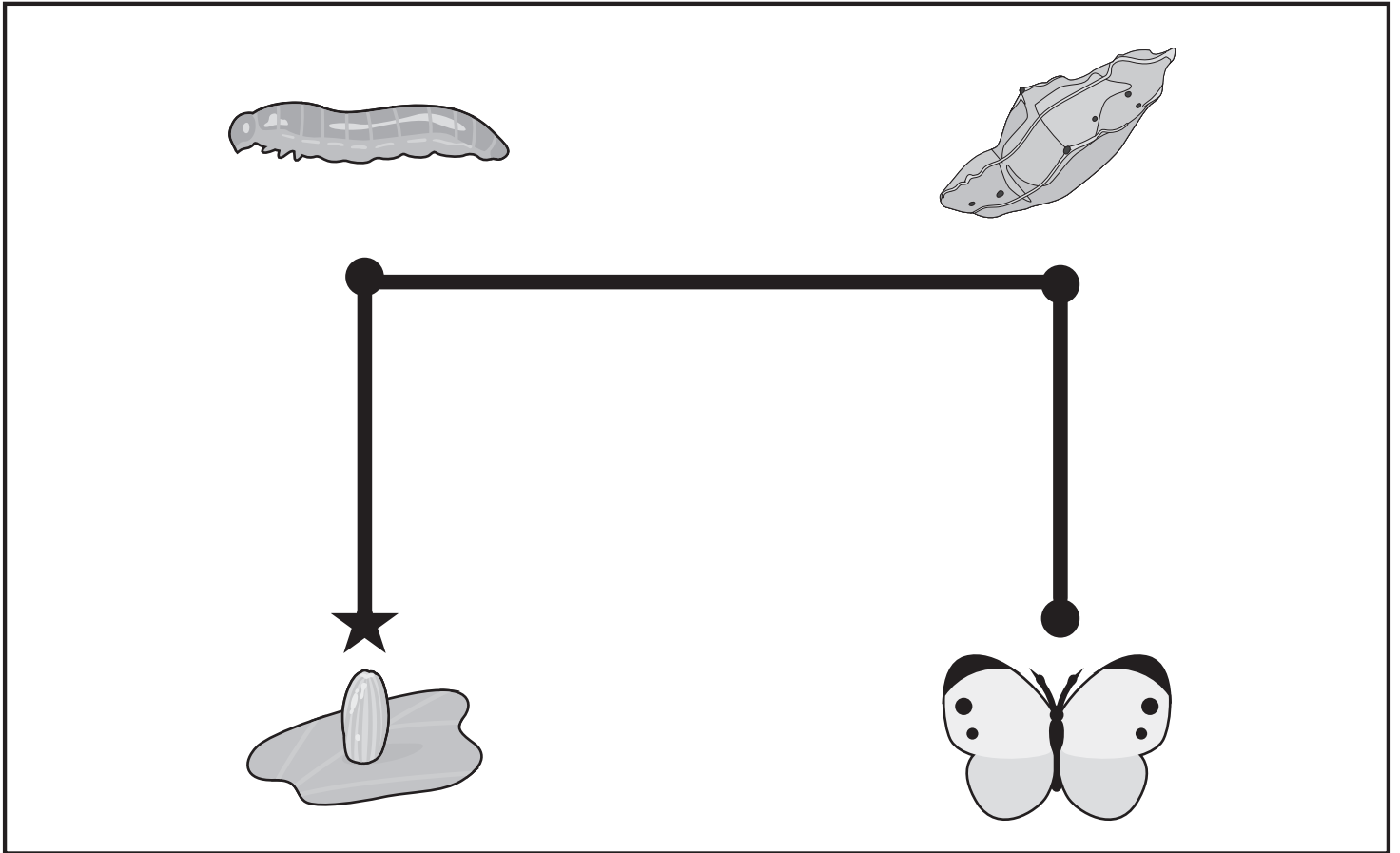
おうちで、やろう。 年中児版

Study at home. 小学校受験の家庭学習教材

常識：生物2

ある生き物が育っていく順番を考えます。

★の卵から大きくなる順番に●を線でつなぎます。



※1. このプリントは、しながわ・目黒こどもスクールのウェブサイトからダウンロードができます。無断複写・引用はご遠慮ください。

※2. このプリントを活用したオンライン授業のスケジュールは、しながわ・目黒こどもスクールのウェブサイトでご確認ください。




おうちで、やろう。 年中児版

Study at home. 小学校受験の家庭学習教材


数量：加減 1

下の①～④の問題に答えます。


①畑にイチゴが4つなっています。ねずみが2つとっていきました。畑に残っているイチゴの数は全部でいくつになりますか。その数だけ、下の四角の中の絵に○をつけます。




②お母さんとおばあちゃんがスーパーでブドウを2つずつ買ってきました。ぶどうは合わせていくつになりますか。その数だけ、下の四角の中の絵に○をつけます。



③スーパーにバナナが5本あります。お客さんがきて4本買っていきました。バナナは残りいくつになりますか。その数だけ、下の四角の中の絵に○をつけます。



④庭の木にミカンが3つなっていました。次の日見てみると、また2つなっていました。ミカンは合わせていくつなっていますか。その数だけ、下の四角の中の絵に○をつけます。






おうちで、やろう。 年中児版

Study at home. 小学校受験の家庭学習教材


数量：加減2

下の①～④の問題に答えます。

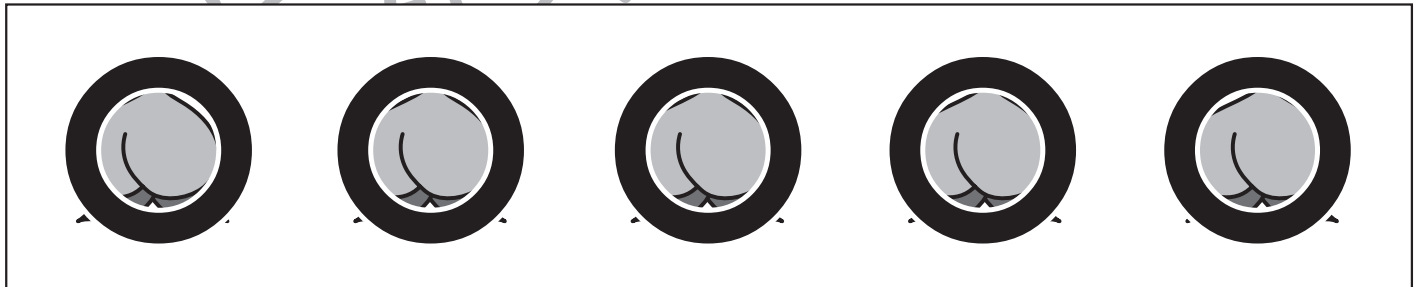
①クマさんが5つあったレモンを朝に1つ、昼に2つ食べました。残りのレモンは合わせていくつになりますか。その数だけ、下の四角の中の絵に○をつけます。




②畑にスイカが5つありました。2日後にまた畑を見てみると2つなくなっていました。畑にスイカはいくつ残っていますか。その数だけ、下の四角の中の絵に○をつけます。



③朝、かごの中を覗くとモモが3つ入っていました。その日の昼に覗くと、2つ増えていました。かごの中のモモは合わせていくつになりますか。その数だけ、下の四角の中の絵に○をつけます。



④ウサギさんが道を歩いているとクマさんがリンゴを1つくれました。また歩いていると今度はキツネさんがリンゴを4つくれました。ウサギさんは歩いている途中で、お腹がすいたのでリンゴを2つ食べました。ウサギさんが持っているりんごは残りいくつになりますか。その数だけ、下の四角の中の絵に○をつけます。



※1. このプリントは、しながわ・目黒こどもスクールのウェブサイトでダウンロードができます。無断複写・引用はご遠慮ください。
※2. このプリントを活用したオンライン授業のスケジュールは、しながわ・目黒こどもスクールのウェブサイトでご確認ください。